



Santillana Cuadernos





Problemas de **matemáticas**

3

Suma y resta llevando. Hasta 99




1 ¿Cuántos metros miden las dos piezas de tela?



Respuesta:

Las dos piezas miden _____ metros.


2 En una granja hay 38 conejos,
15 pavos y 24 gallinas.
¿Cuántos animales hay en la granja?



Respuesta:

En la granja hay _____ animales.

3 Fernando tiene que recorrer 67 kilómetros
desde su casa hasta su trabajo.
Ya ha recorrido 34 kilómetros.
¿Cuántos kilómetros le faltan por recorrer?




Respuesta:


Le faltan por recorrer _____ kilómetros.

En una caja había 23 cartones de leche. Se han llevado 7 cartones. ¿Cuántos cartones quedan?

1. ¿Qué sabes?



2. ¿Qué te preguntan?




3. ¿Qué debes hacer para responder? sumar restar

cartones que había	→	23
cartones que se han llevado	→	- 7
cartones que quedan	→	16


Respuesta: Quedan 16 cartones.

En una bolsa había 24 canicas. Sacamos 16 canicas.
¿Cuántas canicas quedan?

1. ¿Qué sabes?




2. ¿Qué te preguntan?



3. ¿Qué debes hacer para responder?


sumar restar




Respuesta: Quedan _____ canicas.

Arturo debe meter 23 botellas en una caja. Si ya ha metido 15 botellas, ¿cuántas le faltan por meter?

1. ¿Qué sabes?




2. ¿Qué te preguntan?



3. ¿Qué debes hacer para responder?


sumar restar



Respuesta: Le faltan por meter _____ botellas.


P RÁCTICA

- 8 Un frutero compró 42 kilos de manzanas. Vendió 28 kilos. ¿Cuántos kilos le faltan por vender?




Respuesta: Le faltan por vender

- 10 En un huerto hay 52 árboles entre naranjos y limoneros. Si 35 son naranjos, ¿cuántos limoneros hay?




Respuesta: Hay

- 9 Alejandro tiene 52 cromos y Alicia tiene 26 cromos. ¿Cuántos cromos más tiene Alejandro que Alicia?




Respuesta: Alejandro tiene

- 11 Mi abuelo tiene en su granja 71 cerdos y 28 patos. ¿Cuántos cerdos más que patos tiene mi abuelo?



Respuesta: Mi abuelo tiene


15 En una estantería hay 36 novelas, 25 cuentos y 14 libros de poesía. ¿Cuántos libros hay en total?



Respuesta:

En total hay _____


16 Una garrafa tiene 50 litros de agua y otra tiene 25 litros. ¿Cuántos litros tienen entre las dos?



Respuesta: Entre las dos

tienen _____


17 En una fiesta había 47 personas. Se han marchado 28. ¿Cuántas personas quedan?



Respuesta:


Quedan _____

18 Una carretera entre dos pueblos tenía 42 kilómetros. Han hecho obras y la han acortado en 5 kilómetros. ¿Cuántos kilómetros mide ahora?




Respuesta: Ahora mide _____

- 19** Un álbum tiene 43 fotos y otro tiene 39 fotos.
¿Cuántas fotos tienen entre los dos?




Respuesta: Entre los dos
tienen _____

- 20** En un recipiente había 87 litros de aceite y se sacaron 38.
¿Cuántos litros de aceite quedan?




Respuesta:
Quedan _____

- 21** En el patio del colegio había 76 niños. Se han marchado 48.
¿Cuántos niños quedan?





Respuesta:
Quedan _____

- 22** En el teatro Avenida hay 82 butacas. Para la función de la tarde se han vendido 45.
¿Cuántas butacas han quedado libres?



Respuesta: Han quedado
libres _____

Observa los árboles que han plantado en la finca de Juan Manuel.

	 Manzanos	 Cerezos
Lunes	31	16
Martes	17	34

23 ¿Cuántos árboles han plantado cada día?

Respuesta: Han plantado _____ árboles el lunes y _____ árboles el martes.

24 ¿Qué día han plantado más árboles?

Respuesta: Han plantado más árboles el _____

25 ¿Cuántos manzanos han plantado en total?

Respuesta: _____

26 ¿Cuántos cerezos han plantado en total?


Respuesta: _____

27 ¿Cuántos cerezos más que manzanos han plantado?


Respuesta: _____

28 ¿Cuántos manzanos faltan por plantar si en total deben quedar 61 manzanos?

Respuesta: _____




29 Andrea quiere comprar una muñeca que vale 19 euros, un rompecabezas que vale 15 euros y un cuento que vale 4 euros. ¿Cuántos euros necesita para pagar todo?




Respuesta:

30 Domingo tiene 31 gallinas en un corral, 27 en otro y 34 en otro. ¿Cuántas gallinas tiene en total?




Respuesta:

31 Una caja de queso manchego cuesta 76 euros y una caja de queso gallego 84 euros. ¿Cuántos euros más cuesta la caja de queso gallego que la de queso manchego?



Respuesta:


32 María está asistiendo a un curso de inglés que dura 41 semanas. Ya ha asistido durante 29 semanas. ¿Cuántas semanas le faltan para terminar?



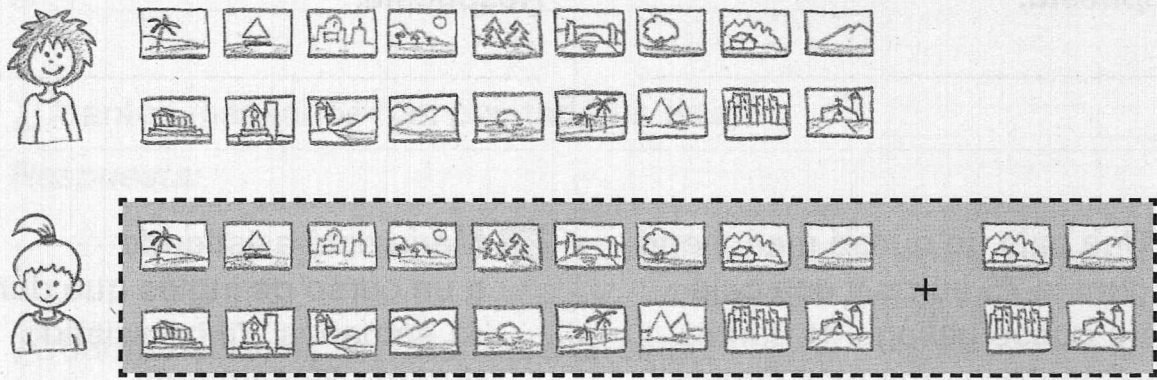
Respuesta:

Marta tiene 18 postales y Gema tiene 4 postales más que Marta.
 ¿Cuántas postales tiene Gema en total?

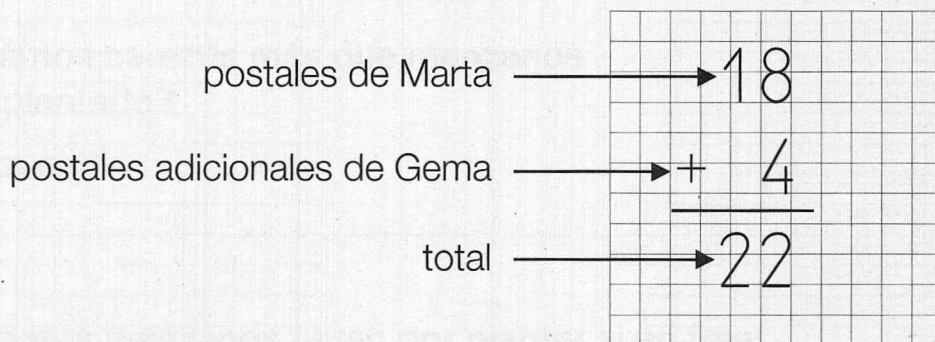
1. ¿Qué sabes?



2. ¿Qué te preguntan?




3. ¿Qué debes hacer para responder? sumar restar



Respuesta: Gema tiene 22 postales.



Rafael pescó 16 peces y Andrea pescó 5 peces más que Rafael.
¿Cuántos peces pescó Andrea en total?

1. ¿Qué sabes?





3. ¿Qué debes hacer para responder?

sumar restar



2. ¿Qué te preguntan?



Respuesta: Andrea pescó _____ peces.


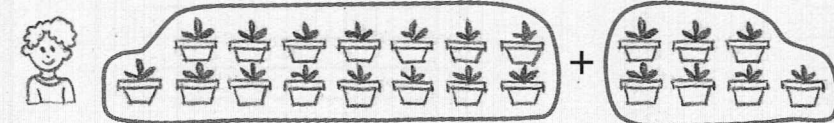
Margarita ha sembrado 15 plantas y Antonio ha sembrado 7 plantas más que Margarita. **¿Cuántas plantas ha sembrado Antonio en total?**

1. ¿Qué sabes?



3. ¿Qué debes hacer para responder?

sumar restar





2. ¿Qué te preguntan?



Respuesta: Antonio ha sembrado _____ plantas.


PRÁCTICA

- 33 Paco tiene 13 ovejas negras y 9 ovejas blancas más que negras. ¿Cuántas ovejas blancas tiene Paco?



Respuesta: Paco tiene _____


- 34 Emilio tiene 12 años y su hermana Ana María tiene 9 años más que él. ¿Cuántos años tiene Ana María?



Respuesta: Ana María

tiene _____


- 35 Una regla azul mide 20 centímetros y otra regla verde mide 10 centímetros más. ¿Cuánto mide la regla verde?



Respuesta: La regla verde


mide _____

- 36 En primer curso hay 19 alumnos y en sexto curso 7 alumnos más que en primero. ¿Cuántos alumnos hay en sexto curso?




Respuesta: En sexto curso hay _____

- 37 Una pieza de tela negra mide 75 metros y otra pieza de tela amarilla mide 16 metros más que la negra. ¿Cuántos metros en total mide la tela amarilla?




Respuesta: La tela amarilla mide _____

- 38 Un futbolista jugó 48 partidos el año pasado y este año ha jugado 15 partidos más que el año pasado. ¿Cuántos partidos ha jugado este año?




Respuesta: Este año ha jugado _____

- 39 Laura tiene en su mano derecha 16 tazos y en su mano izquierda 7 tazos más que en su mano derecha. ¿Cuántos tazos tiene en su mano izquierda?




Respuesta: En su mano izquierda tiene _____

40 Un comerciante tenía 89 jerséis y ha vendido 56. ¿Cuántos jerséis le quedan?




Respuesta:

41 Pedro tiene 13 años y su padre tiene 29 años más que Pedro. ¿Cuántos años tiene el padre de Pedro?




Respuesta:

42 Helena quiere comprar un bolígrafo que vale 95 céntimos. Si tiene 67 céntimos, ¿cuántos céntimos le faltan para comprar el bolígrafo?




Respuesta:

43 Sonia ha llevado al colegio 33 bombones el día de su cumpleaños. Ha repartido 25 bombones. ¿Cuántos bombones le quedan?




Respuesta:

44 Un ciclista recorrió en la primera etapa 48 kilómetros y en la segunda etapa 27 kilómetros más que en la primera. ¿Cuántos kilómetros recorrió en la segunda etapa?




Respuesta:

45 Sandra tenía 64 tazos y ha perdido 19. ¿Cuántos le quedan?




Respuesta:

46 En la granja de Félix hay 40 conejos, 37 pavos y 4 caballos. ¿Cuántos animales hay en total?



Respuesta:

47 Ignacio está haciendo una colección de 92 cromos. Ya ha conseguido 64 cromos. ¿Cuántos le faltan?



Respuesta:

Antes de resolver cada problema:

- Léelo con cuidado.
- Marca la operación que debes hacer.

48 Una pieza de tela mide 129 metros y otra pieza mide 36 metros más. ¿Cuántos metros mide la segunda pieza de tela?

Operación: sumar restar

Respuesta:

49 La furgoneta de Luis puede llevar 64 kilos de carga y la furgoneta de Antonio puede llevar 57 kilos. ¿Cuántos kilos más puede llevar la furgoneta de Luis que la de Antonio?

Operación: sumar restar


Respuesta:

50 Juanita tenía 84 euros y Tomás le ha regalado 17 euros más. ¿Cuántos euros tiene Juanita?

Operación: sumar restar

Respuesta:

AMPLIACIÓN



- Ricardo quiere comprar el balón y el videojuego. ¿Cuántos euros necesita?

Respuesta:

- Margarita ha comprado el león y ha entregado 30 euros para pagar. ¿Cuántos euros le han devuelto?

Respuesta:

- Nuria tiene 40 euros. ¿Cuántos euros le faltan para comprar una muñeca y un videojuego?

Respuesta:

- Si tuvieras 65 euros, ¿qué podrías comprar?

Respuesta:

